

## Triangular Lodge

### 20 maximumscore 4

- Voor de oppervlakte in  $\text{cm}^2$  moet er gerekend worden met een factor  $30,48^2$  2
- De oppervlakte is  $(471,55 \cdot 30,48^2 =) 438\,084, \dots (\text{cm}^2)$  1
- Het antwoord:  $43,8 (\text{m}^2)$  1

#### Opmerking


Voor het eerste antwoordelement mogen uitsluitend 0 of 2 twee scorepunten worden toegekend.

### 21 maximumscore 4

Een aanpak als:

- Het tekenen van de horizon 2
- De horizon ligt ter hoogte van de ingang, dat is (ongeveer) 0,22 van de hoogte van het gebouw tot aan de dakrand aan de buitenkant 1
- Het antwoord: 180 (cm) 1

Voorbeeld van een horizonconstructie



#### Opmerkingen

- Als gevolg van onnauwkeurigheden bij het opmeten in de figuur kunnen redelijk grote afwijkingen in de gevonden hoogte vóórkomen.
- Voor het eerste antwoordelement mag voor een niet volledig juist antwoord 1 scorepunt worden toegekend.

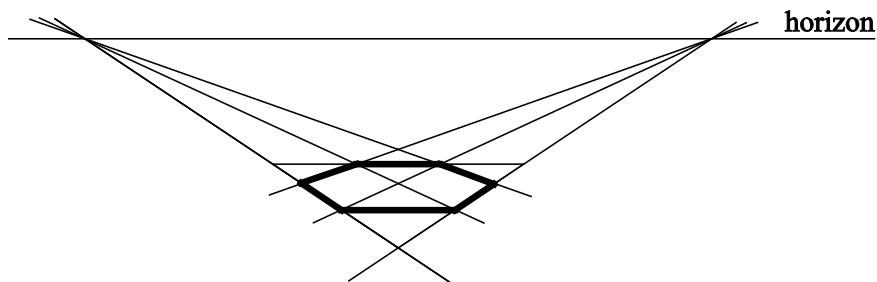
lees verder ►►►

**22 maximumscore 5**

Een aanpak als:

- Het verdelen van de ‘achterste’ zijde van de driehoek in drie gelijke delen 1
- Het tekenen van de twee verdwijnpunten door het verlengen van de twee niet-horizontale zijden van de driehoek 1
- Het tekenen van de vier andere punten van de zeshoek met behulp van de verdwijnpunten op twee niet-horizontale zijden van de driehoek 2
- Het verder afmaken van de tekening van de zeshoek 1

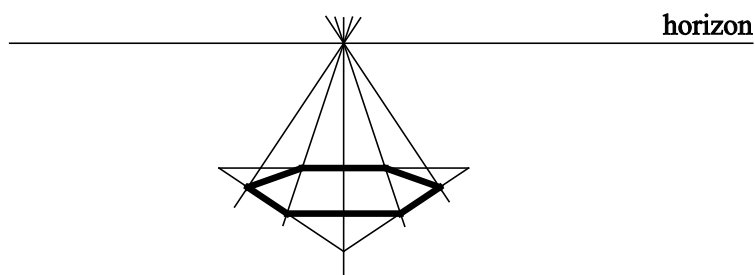
Voorbeeld van een bijbehorende tekening



of

- Het verdelen van de ‘achterste’ zijde van de driehoek in zes gelijke delen 1
- Het tekenen van het verdwijnpunt met behulp van het midden van de ‘achterste’ zijde en het tegenoverliggende hoekpunt van de driehoek 1
- Het tekenen van de vier andere lijnen op basis van de vier overblijvende punten op de ‘achterste’ zijde en het verdwijnpunt 2
- Het verder afmaken van de tekening van de zeshoek 1

Voorbeeld van een bijbehorende tekening



*Opmerking*

*Bij het eerste zowel als het tweede antwoordalternatief mag voor het derde antwoordelement voor een niet volledig juist antwoord 1 scorepunt worden toegekend.*