
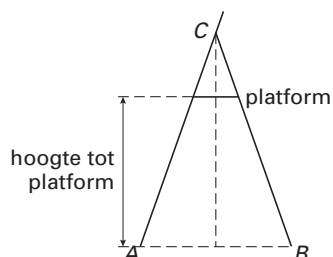


TRAP EN SCHUIFLADDER

In doe-het-zelfzaken zijn trappen in diverse maten te koop. De foto hieronder, waarop drie van deze trappen zijn afgebeeld, komt uit een reclamefolder.

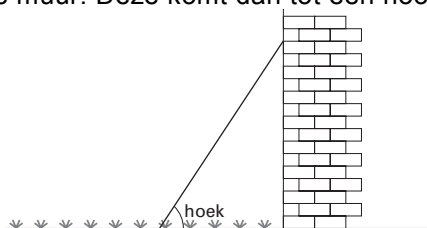


In de figuur hieronder zie je een schets van het zijaanzicht van een trap. Driehoek ABC is gelijkbenig. In de tabel daarnaast staan gegevens over verschillende trappen. Deze tabel staat ook in het uitwerkboekje bij vraag 15.



aantal treden	hoogte tot platform (in cm)
2	67
3	89
4	111
5	133

- 3p 15 → Laat met behulp van de tabel in het uitwerkboekje zien dat de hoogte tot het platform van de trap met zeven treden gelijk is aan 177 cm.
- 5p 16 Meneer Visser wil zijn huis schilderen. Zijn trap met zeven treden is te kort, daarom leent hij een schuifladder bij de buurman. Op de foto in het uitwerkboekje bij vraag 16 zie je de trap en de schuifladder. De schuifladder is al gedeeltelijk uitgeschoven.
- Schat in cm nauwkeurig, met behulp van de foto in het uitwerkboekje, tot welke hoogte de schuifladder tegen het huis aan staat. Laat zien hoe je aan je antwoord komt.
- 4p 17 Meneer Visser schuift de ladder uit tot een lengte van 5,8 meter. Hij zet de ladder tegen de muur. Deze komt dan tot een hoogte van 5,5 meter. Zie onderstaande tekening.



- Bereken in graden nauwkeurig de hoek die de ladder met de grond maakt. Schrijf je berekening op.