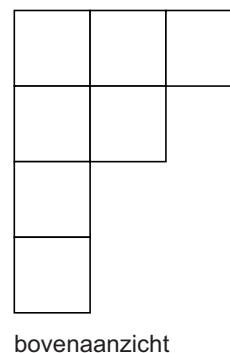



## Blokken stapelen


Lars speelt met blokken. Hij maakt een klein bouwwerk. Je ziet een foto van het bouwwerk en het bovenaanzicht.



- 1p **11** Schrijf op uit hoeveel blokken dit bouwwerk bestaat.

.....

- 3p **12** Teken het rechter zijaanzicht van dit bouwwerk.

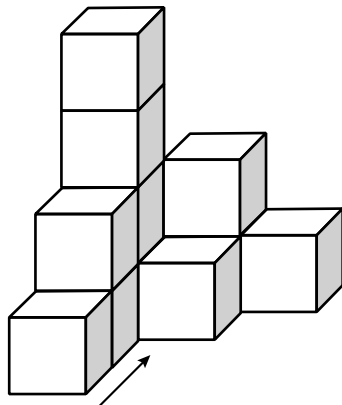


- 1p **13** Hoeveel blokken kun je op zijn hoogst van dit bouwwerk weghalen zonder dat het vooraanzicht verandert?

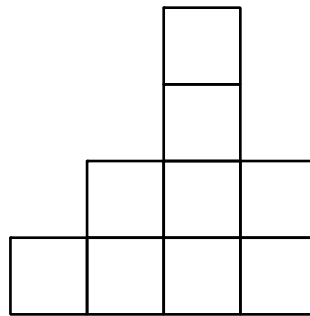
.....

lees verder ►►►

Lars maakt daarna een ander bouwwerk. Je ziet het bouwwerk, een rechter zijaanzicht en een bovenaanzicht getekend.



vooraanzicht



rechter zijaanzicht

1	2	1
4	1	
2		
1		

bovenaanzicht

Door één blokje van het bouwwerk te verplaatsen, wordt het rechter zijaanzicht symmetrisch.

- 2p **14** Teken een bovenaanzicht van die nieuwe situatie en zet de juiste aantallen er in.

