


## Wintersport

Iris gaat met haar gezin op skivakantie.  
Vooraf gaat ze met haar kinderen een keer oefenen.  
Dit doen ze op de overdekte skibaan 'Sneeuwwereld'.

Hieronder staan de tarieven van 'Sneeuwwereld'.

<b>SNEEUWERELD</b>	
<b>per kind</b>	
baanhuur 1e uur	€ 12,00
verlenging per minuut	€ 0,25
dagkaart	€ 20,00
<b>per volwassene</b>	
baanhuur 1e uur	€ 15,00
verlenging per minuut	€ 0,30
dagkaart	€ 24,75



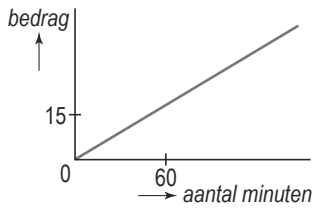
- 1p    **1**    De 2 kinderen van Iris skiën ieder 1 uur.  
→ Hoeveel euro moet Iris voor het skiën van haar kinderen betalen?  
Schrijf hieronder je antwoord op.

.....

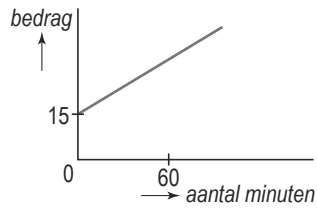
- 3p    **2**    Iris heeft geskied van 14.05 uur tot 15.20 uur.  
→ Laat hieronder met een berekening zien dat Iris voor zichzelf € 19,50 voor  
het skiën moet betalen.

.....  
.....  
.....  
.....

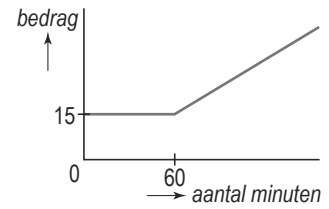
lees verder ►►►



A



B



C

2p **3** Hierboven zie je de grafieken A, B en C getekend.  
 Eén ervan hoort bij het bedrag in euro's dat een volwassene voor een aantal  
 minuten skiën bij 'Sneeuwwereld' moet betalen.

→ Welke grafiek is dat?  
 Leg hieronder je antwoord uit.

.....

.....

.....

3p **4** Je kunt bij 'Sneeuwwereld' ook een dagkaart kopen.  
 → Bereken hoeveel minuten een volwassene minstens moet skiën om met een  
 dagkaart goedkoper uit te zijn.  
 Schrijf hieronder je berekening op. Rond je antwoord af op hele minuten.

.....

.....

.....

.....