

Hieronder zie je een gedeelte van een krantenartikel uit 2001.

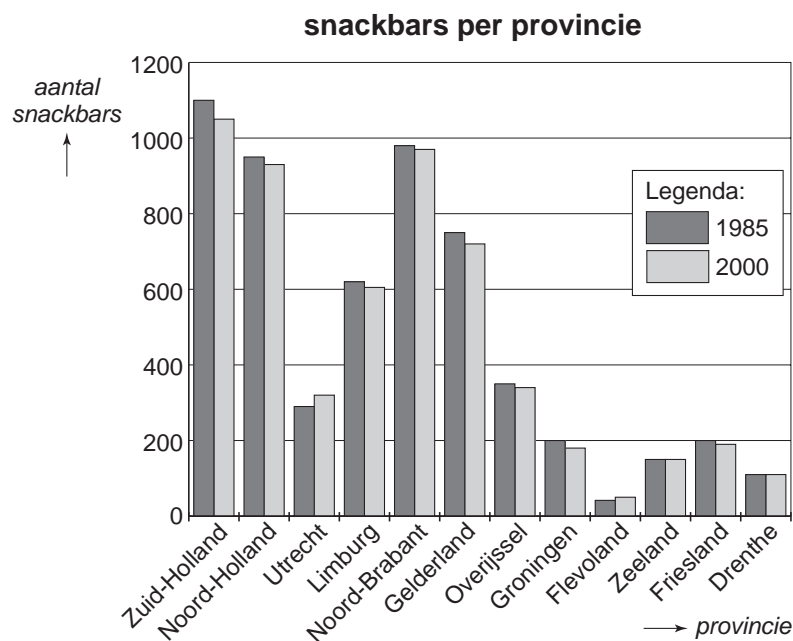
Aantal snackbars gaat hard achteruit

■ van onze redactie

Steeds minder mensen beginnen een nieuwe snackbar of willen een bestaande snackbar overnemen.

Wie net begint moet niet alleen hard werken, goede papieren hebben en voor hygiëne en kwaliteit zorgen, maar heeft ook minstens 300 000 euro nodig.

In het diagram hieronder zie je het aantal snackbars per provincie in 1985 en in 2000.



- 1p 5 → In welke provincies is het aantal snackbars in 2000 groter dan in 1985?
Schrijf hieronder je antwoord op.

.....

- 2p 6 → Lees uit het diagram hierboven af hoeveel snackbars er in het jaar 2000 in Zuid-Holland en Noord-Holland samen waren.
Laat hieronder zien hoe je aan je antwoord komt.

.....

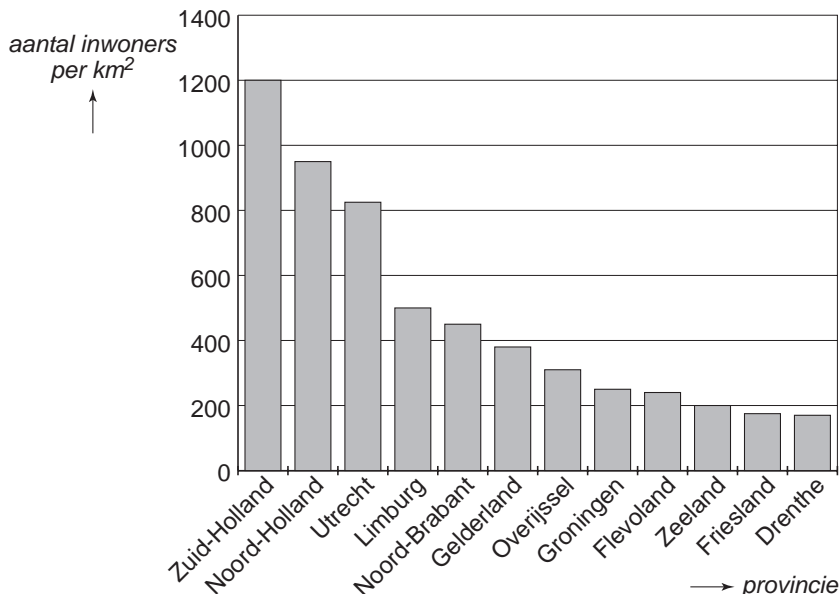
.....

.....

lees verder ►►►

- 2p ○ 7 In het diagram hieronder zie je de bevolkingsdichtheid van elke provincie in het jaar 2000. De bevolkingsdichtheid is het aantal inwoners per km^2 .

bevolkingsdichtheid per provincie in het jaar 2000



In het artikel werd ook het volgende beweerd:
 ‘Hoe groter de bevolkingsdichtheid van een provincie, hoe meer snackbars er zijn.’
 → Klopt deze bewering?
 Leg hieronder je antwoord uit.

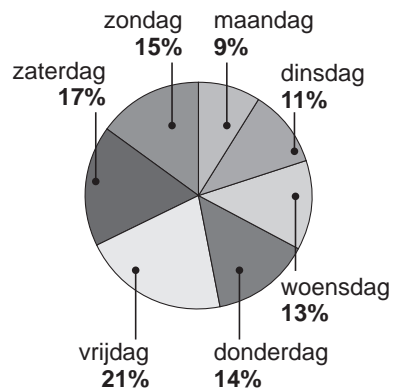
.....

.....

.....

- 3p ○ 8 Hiernaast zie je de omzet van alle snackbars in Nederland verdeeld over de dagen van de week. In totaal zetten alle snackbars per jaar 1 miljard euro om.

omzet alle snackbars in Nederland



→ Bereken hoeveel euro alle snackbars in Nederland per jaar op zaterdag en zondag samen omzetten.
 Schrijf hieronder je berekening op.

.....

.....

.....