

Examen VWO

**2018**

tijdvak 2  
woensdag 20 juni  
13.30 - 16.30 uur

**oud programma**

**wiskunde B**

Bij dit examen hoort een uitwerkbijlage.

Dit examen bestaat uit 15 vragen.

Voor dit examen zijn maximaal 76 punten te behalen.

Voor elk vraagnummer staat hoeveel punten met een goed antwoord behaald kunnen worden.

Als bij een vraag een verklaring, uitleg of berekening vereist is, worden aan het antwoord meestal geen punten toegekend als deze verklaring, uitleg of berekening ontbreekt.

Geef niet meer antwoorden (redenen, voorbeelden e.d.) dan er worden gevraagd. Als er bijvoorbeeld twee redenen worden gevraagd en je geeft meer dan twee redenen, dan worden alleen de eerste twee in de beoordeling meegeteld.

## Vlakke meetkunde

Verwijzingen naar definities en stellingen die bij een bewijs mogen worden gebruikt zonder nadere toelichting.

### Hoeken, lijnen en afstanden:

*gestrekte hoek, rechte hoek, overstaande hoeken, F-hoeken, Z-hoeken, afstand punt tot lijn, driehoeksongelijkheid.*

### Meetkundige plaatsen:

*middelloodlijn, bissectrice, bissectricepaar, middenparallel, cirkel, parabool.*

### Driehoeken:

*hoekensom driehoek, buitenhoek driehoek, congruentie: HZH, ZHH, ZHZ, ZZZ, ZZR; gelijkvormigheid: hh, zhz, zzz, zzz; middelloodlijnen driehoek, bissectrices driehoek, hoogtelijn driehoek, hoogtelijnen driehoek, zwaartelijn driehoek, zwaartelijnen driehoek, gelijkbenige driehoek, gelijkzijdige driehoek, rechthoekige driehoek, Pythagoras, gelijkbenige rechthoekige driehoek, halve gelijkzijdige driehoek.*

### Vierhoeken:

*hoekensom vierhoek, parallellogram, ruit, rechthoek, vierkant.*

### Cirkel, koorden, bogen, hoeken, raaklijn, vierhoeken:

*koorde, boog en koorde, loodlijn op koorde, middellijn, Thales, middelpuntshoek, omtrekshoek, constante hoek, raaklijn, hoek tussen koorde en raaklijn, koordenvierhoek.*

## Goniometrie

$$\sin(t + u) = \sin(t)\cos(u) + \cos(t)\sin(u) \quad \sin(t) + \sin(u) = 2\sin\left(\frac{t+u}{2}\right)\cos\left(\frac{t-u}{2}\right)$$

$$\sin(t - u) = \sin(t)\cos(u) - \cos(t)\sin(u) \quad \sin(t) - \sin(u) = 2\sin\left(\frac{t-u}{2}\right)\cos\left(\frac{t+u}{2}\right)$$

$$\cos(t + u) = \cos(t)\cos(u) - \sin(t)\sin(u) \quad \cos(t) + \cos(u) = 2\cos\left(\frac{t+u}{2}\right)\cos\left(\frac{t-u}{2}\right)$$

$$\cos(t - u) = \cos(t)\cos(u) + \sin(t)\sin(u) \quad \cos(t) - \cos(u) = -2\sin\left(\frac{t+u}{2}\right)\sin\left(\frac{t-u}{2}\right)$$

## Twee functies

De functies  $f$  en  $g$  zijn gegeven door:

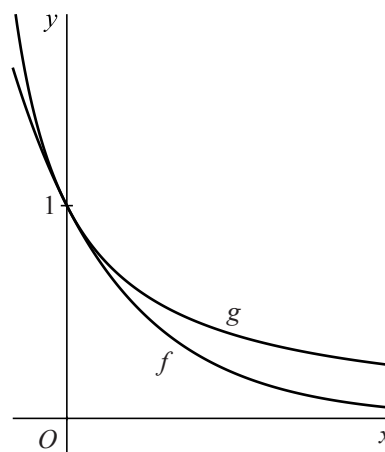
$$f(x) = e^{-x} \text{ en } g(x) = \frac{1}{x+1}, \text{ met } x > -1$$

In figuur 1 zijn de grafieken van  $f$  en  $g$  getekend.

Beide grafieken gaan door het punt  $(0, 1)$  en de twee grafieken hebben in  $(0, 1)$  dezelfde helling.

Behalve  $x = 0$  is er nog een tweede waarde van  $x$  waarvoor de grafieken van  $f$  en  $g$  dezelfde helling hebben.

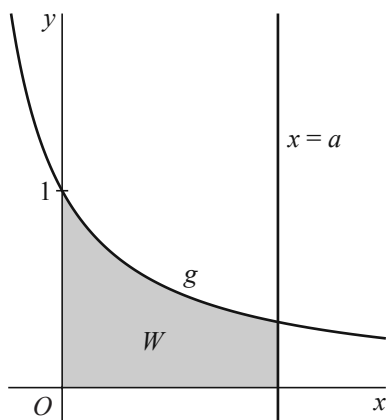
figuur 1



- 4p 1 Bereken deze waarde van  $x$  in twee decimalen nauwkeurig.

Het vlakdeel ingesloten door de grafiek van  $g$ , de  $y$ -as, de  $x$ -as en de lijn  $x = a$ , met  $a > 0$ , noemen we  $W$ . Zie figuur 2.

figuur 2



Als de waarde van  $a$  onbegrensd toeneemt, neemt de oppervlakte van  $W$  ook onbegrensd toe.

Er is bijvoorbeeld een waarde van  $a$  waarvoor geldt: de oppervlakte van  $W$  is 2011.

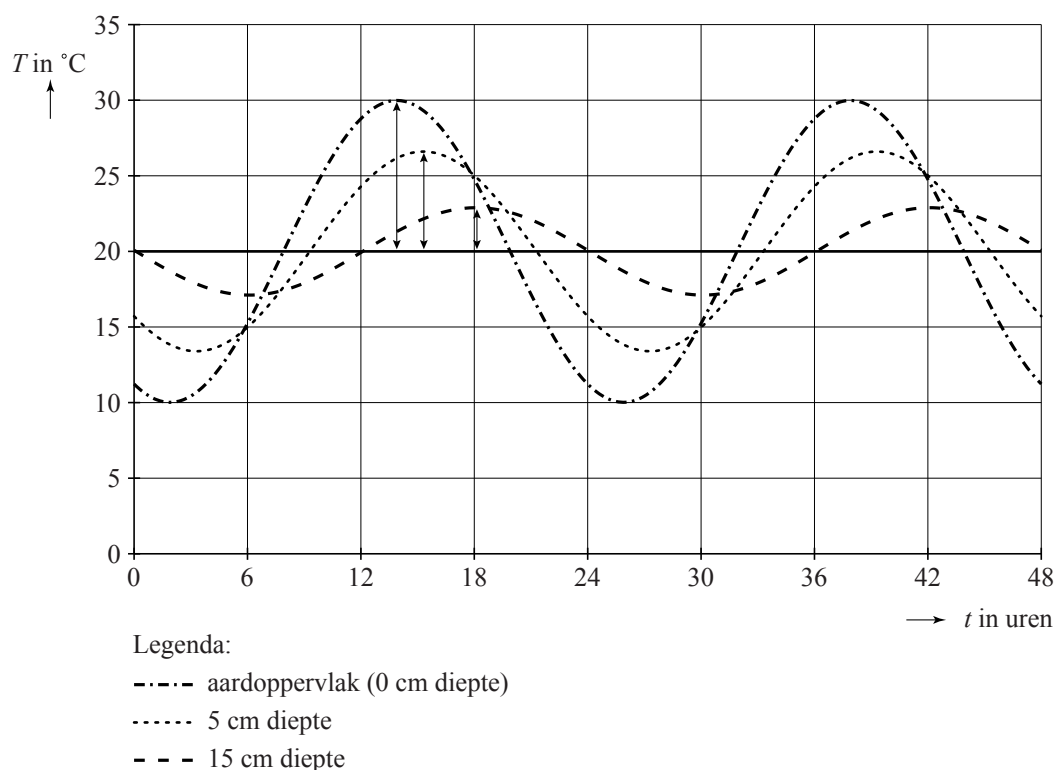
- 4p 2 Bereken exact deze waarde van  $a$ .

## Temperatuur in de aardbodem

Per 24 uur schommelt de temperatuur aan het aardoppervlak en daardoor ook de temperatuur in de aarde. Naarmate je op een bepaalde plek dieper de aardbodem ingaat, zijn de temperatuurschommelingen minder groot. Bovendien lopen ze achter in de tijd ten opzichte van de temperatuurschommeling aan het aardoppervlak.

In figuur 1 zie je voor een bepaalde plaats in Nederland het dagelijkse temperatuurverloop op verschillende dieptes als functie van de tijd  $t$ , met  $t$  in uren. Hierbij geldt  $t = 0$  om middernacht in het begin van een week met zacht zomerweer. Voor elk van deze geringe dieptes is de evenwichtsstand van het temperatuurverloop (bij benadering)  $20,0\text{ }^{\circ}\text{C}$ . Bij elke grafiek is met een dubbele pijl de amplitude aangegeven.

**figuur 1**



De amplitude van het temperatuurverloop blijkt exponentieel af te hangen van de diepte in de aardbodem.

De diepte waarop de amplitude is afgenomen tot  $\frac{1}{e}$ -de deel van de amplitude aan het aardoppervlak wordt de **dempingsdiepte** genoemd. Er geldt:

$$A(z) = A(0) \cdot \left(\frac{1}{e}\right)^{\frac{z}{D}}$$

Hierin is  $z$  de diepte in de aardbodem in centimeter,  $A(z)$  de amplitude van het temperatuurverloop in graden Celsius op diepte  $z$  cm en  $D$  de dempingsdiepte in centimeter.

In figuur 1 zijn onder andere de amplitudes  $A(0) = 10,0$  en  $A(15) = 2,9$  aangegeven.

- 3p **3** Bereken uitgaande van de genoemde amplitudes de waarde van  $D$  in één decimaal nauwkeurig.

Gebruikmakend van de waarden van  $A(0)$  en  $D$  kan de formule voor de amplitude worden herschreven tot  $A(z) = 10,0 \cdot 0,92^z$ . Met deze formule werken we in het vervolg van deze opgave.

De grafieken in figuur 1 zijn sinusoiden met een evenwichtsstand van  $20,0$  °C en een periode van 24 uur. De grafiek die hoort bij  $z = 0$  gaat bij  $t = 7,9$  stijgend door de evenwichtsstand. Bij elke centimeter dieper in de aardbodem gaat de bijbehorende grafiek ongeveer  $0,28$  uur later door de evenwichtsstand.

Voor de situatie van figuur 1 komen we uit op de volgende formule voor de temperatuur in de aardbodem:

$$T = 20,0 + 10,0 \cdot 0,92^z \cdot \sin\left(\frac{\pi}{12}(t - 7,9 - 0,28 \cdot z)\right)$$

Hierin is  $z$  de diepte in de aardbodem in centimeter,  $T$  de temperatuur op deze diepte in graden Celsius en  $t$  de tijd in uren met  $t = 0$  om middernacht. Deze formule geldt voor  $0 \leq z \leq 30$  en  $0 \leq t \leq 48$ .

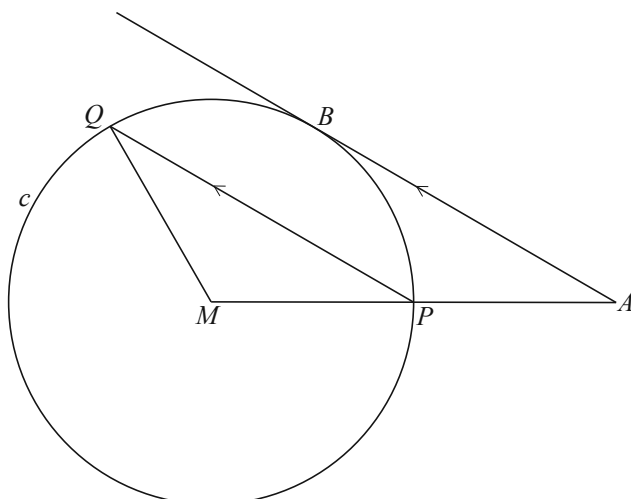
De temperatuur op 15 cm diepte in de aardbodem bereikt op een bepaald tijdstip van de dag zijn maximale waarde.

- 6p **4** Bereken dit tijdstip op algebraïsche wijze.

## Koorde evenwijdig aan raaklijn

Gegeven is een cirkel  $c$  met middelpunt  $M$  en een punt  $P$  op  $c$ . Op het verlengde van de straal  $MP$  ligt het punt  $A$  zo dat  $MP = PA$ . Een raaklijn door  $A$  aan  $c$  raakt de cirkel in het punt  $B$ . Het punt  $Q$  ligt op  $c$  zo dat de koorde  $PQ$  evenwijdig is aan de raaklijn  $AB$ . Zie figuur 1. In deze figuur is ook de straal  $MQ$  getekend. Deze figuur staat ook op de uitwerkbijlage.

figuur 1

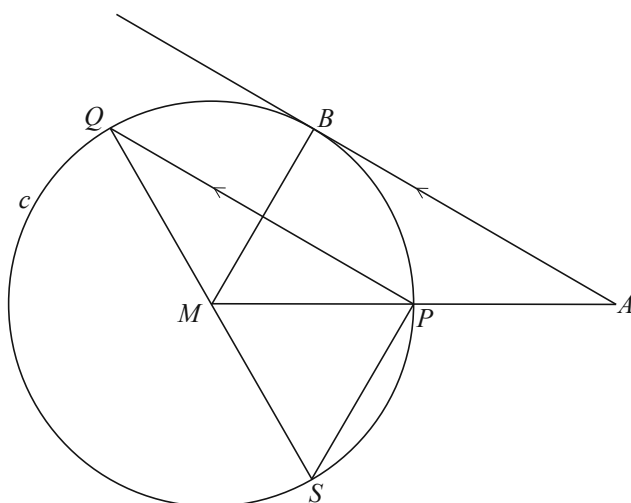


Er geldt:  $\angle MQP = \angle BAM$

- 3p 5 Bewijs dit. Je kunt hierbij gebruik maken van de figuur op de uitwerkbijlage.

Het verlengde van  $QM$  snijdt de cirkel  $c$  in het punt  $S$ . Zie figuur 2. In deze figuur zijn ook de straal  $MB$  en de koorde  $PS$  getekend. Deze figuur staat ook op de uitwerkbijlage.

figuur 2

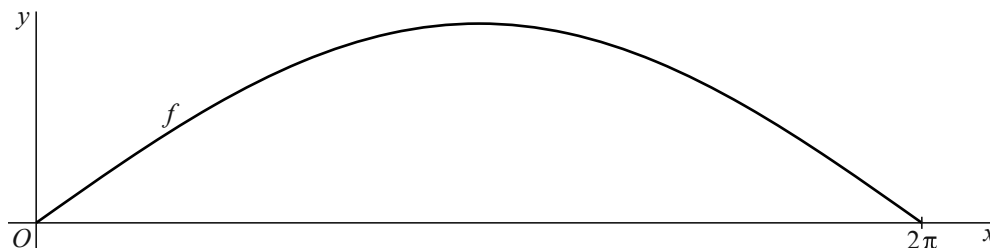


- 5p 6 Bewijs dat  $PS = MB$ . Je kunt hierbij gebruik maken van de figuur op de uitwerkbijlage.

## Wortelfunctie met cosinus

In figuur 1 is een sinusoïde getekend die de grafiek is van een functie  $f$  met domein  $[0, 2\pi]$ .

**figuur 1**



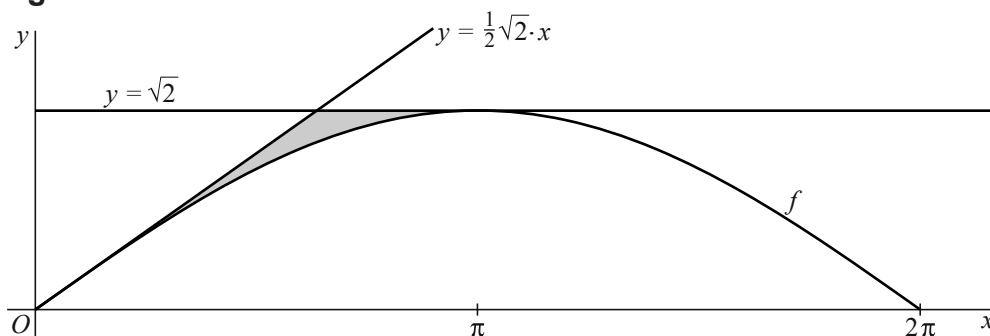
Het bijbehorende functievoorschrift kan op dit domein geschreven worden als  $f(x) = \sqrt{1 - \cos x}$ .

- 5p 7 Bereken exact de richtingscoëfficiënt van de raaklijn aan de grafiek van  $f$  in het punt op de grafiek waarvan de  $y$ -coördinaat  $\frac{1}{2}\sqrt{6}$  is en de  $x$ -coördinaat groter dan  $\pi$  is.

In figuur 2 zijn de grafiek van  $f$  en de lijnen  $y = \frac{1}{2}\sqrt{2} \cdot x$  en  $y = \sqrt{2}$  getekend. Deze lijnen raken de grafiek van  $f$  in respectievelijk  $(0, 0)$  en  $(\pi, \sqrt{2})$ .

Het vlakdeel  $V$  wordt begrensd door de grafiek van  $f$  en de twee genoemde lijnen. Dit vlakdeel is in figuur 2 grijs gemaakt.

**figuur 2**



- 8p 8 Het omwentelingslichaam  $L$  ontstaat bij wenteling van  $V$  om de  $x$ -as. Bereken exact de inhoud van  $L$ . Schrijf je antwoord zo eenvoudig mogelijk.

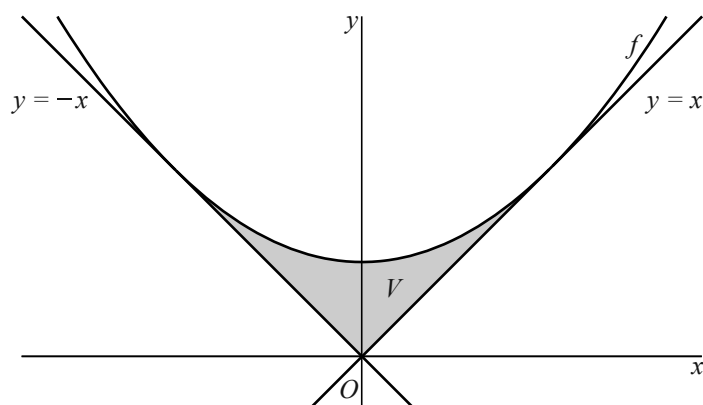
## Twee lijnen die raken aan parabolen

De functie  $f$  is gegeven door  $f(x) = 3x^2 + \frac{1}{12}$ . De lijn met vergelijking  $y = x$  raakt aan de grafiek van  $f$ . Vanwege symmetrie in de  $y$ -as raakt ook de lijn  $y = -x$  aan de grafiek van  $f$ .

Het vlakdeel  $V$  wordt begrensd door de grafiek van  $f$  en de twee raaklijnen.

Zie figuur 1.

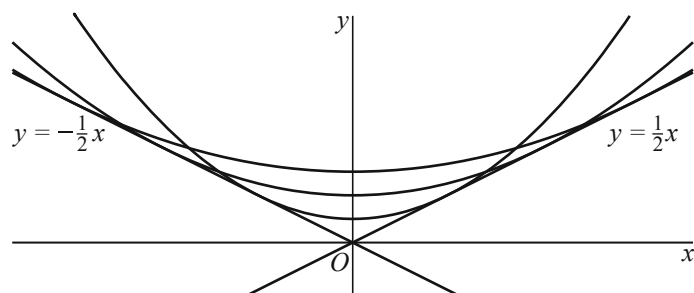
**figuur 1**



- 6p 9 Bereken exact de oppervlakte van het vlakdeel  $V$ .

Voor elk tweetal positieve waarden van  $a$  en  $b$  is de functie  $g_{a,b}$  gegeven door  $g_{a,b}(x) = ax^2 + b$ . We bekijken de functies  $g_{a,b}$  die de lijn  $y = \frac{1}{2}x$  (en dus ook de lijn  $y = -\frac{1}{2}x$ ) als raaklijn aan hun grafiek hebben. In figuur 2 zijn de grafieken van drie van zulke functies en de lijnen  $y = \frac{1}{2}x$  en  $y = -\frac{1}{2}x$  getekend.

**figuur 2**



Voor alle functies  $g_{a,b}$  die de lijn  $y = \frac{1}{2}x$  (en dus ook de lijn  $y = -\frac{1}{2}x$ ) als raaklijn aan hun grafiek hebben, kunnen we  $b$  uitdrukken in  $a$ .

- 6p 10 Druk voor deze functies  $b$  uit in  $a$ . Schrijf je antwoord zo eenvoudig mogelijk.



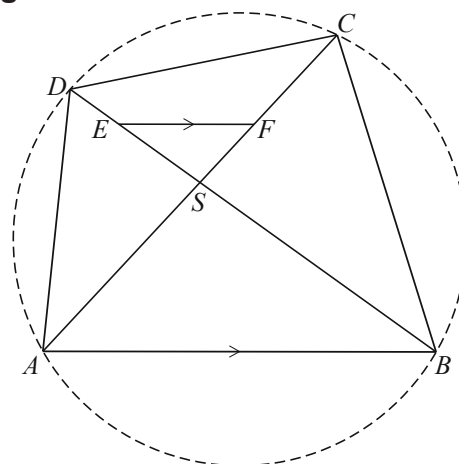
## Koordinvierhoek en gelijke hoeken

Gegeven is coordinvierhoek  $ABCD$  met de twee diagonalen  $AC$  en  $BD$ , die elkaar in punt  $S$  snijden.

Op lijnstuk  $CS$  ligt punt  $F$  en op lijnstuk  $DS$  ligt punt  $E$  zó dat de lijnstukken  $AB$  en  $EF$  evenwijdig zijn.

Zie figuur 1. De cirkel door de hoekpunten van de coordinvierhoek is in deze figuur gestippeld. Deze figuur staat ook op de uitwerkbijlage.

figuur 1

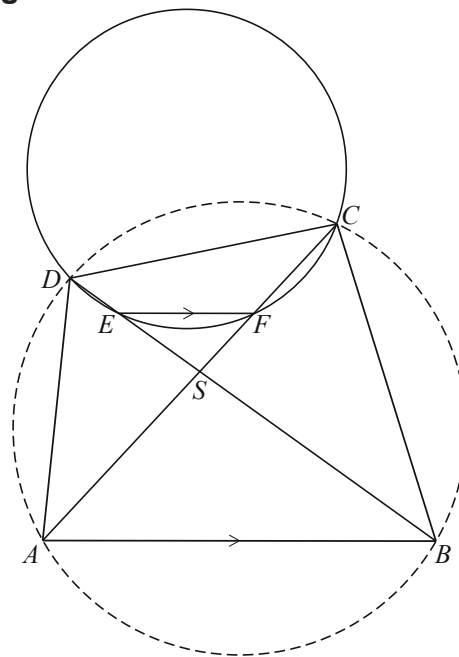


Vierhoek  $CDEF$  is een coordinvierhoek.

- 5p 11 Bewijs dit. Je kunt hierbij gebruik maken van de figuur op de uitwerkbijlage.

In figuur 2 is, behalve de situatie van figuur 1, ook de cirkel door de punten  $C$ ,  $D$ ,  $E$  en  $F$  getekend. Ook deze figuur staat op de uitwerkbijlage.

figuur 2



- 3p 12 Bewijs dat  $\angle ADF = \angle BCE$ . Je kunt hierbij gebruik maken van de figuur op de uitwerkbijlage.

## Fontein

Op de foto is de Crown Fountain in Chicago te zien.

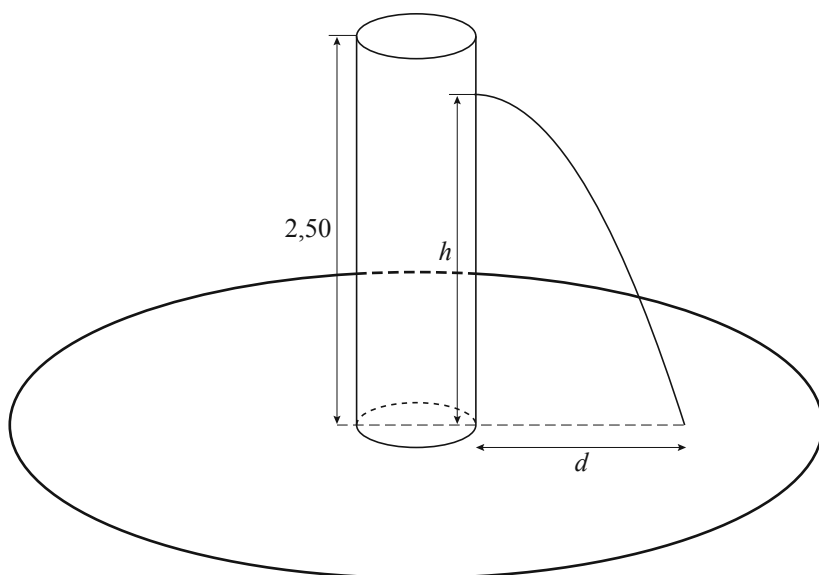
foto



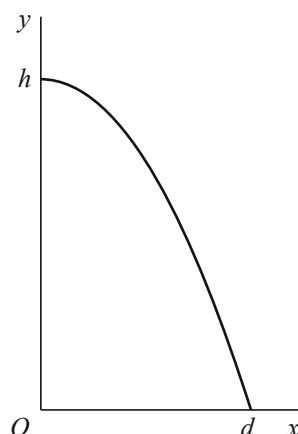
In figuur 1 is een cilindervormige vijverfontein getekend die volgens hetzelfde principe werkt. In de verticale, holle cilinderbuis wordt water tot een hoogte van 2,50 meter opgepompt. In de buis is op een hoogte  $h$  meter boven de grond een klein gat aangebracht. Uit dit gat spuit in horizontale richting water. Omdat de pomp er ondertussen voor zorgt dat het water in de buis 2,50 meter hoog blijft, krijgen we een waterstraal te zien die bij benadering de vorm heeft van een halve parabool.

De waterstraal komt op afstand  $d$  meter van de cilinderbuis op het wateroppervlak in de vijver. Zie figuur 1 en figuur 2.

figuur 1



figuur 2



De horizontale uitstroomsnelheid  $v$  van het water bij het gat hangt af van de hoeveelheid water die zich boven het gat bevindt en dus van de hoogte  $h$  van het gat. Er geldt bij benadering:

$$v = \sqrt{19,6 \cdot (2,50 - h)} \quad , \text{ met } v \text{ in meter per seconde en } h \text{ in meter.}$$

In een geschikt assenstelsel beweegt een waterdruppel (uit de waterstraal) met coördinaten  $(x, y)$  bij benadering volgens de vergelijkingen:

$$\begin{cases} x = v \cdot t \\ y = h - 4,9 \cdot t^2 \end{cases}$$

Hierin is  $t$  de tijd in seconden en  $t = 0$  op het moment dat de waterdruppel het gat passeert (zodat dan geldt  $x = 0$  en  $y = h$ ).

Voor de waarde van  $t$  die hoort bij het tijdstip waarop de waterdruppel in de vijver valt, geldt  $x = d$  en  $y = 0$ . Zie figuur 1 en figuur 2.

$$\text{Er geldt: } d = 2 \cdot \sqrt{h \cdot (2,50 - h)}$$

- 5p 13 Leid langs algebraïsche weg deze laatste formule af uit de gegeven formules voor  $v$ ,  $x$  en  $y$ .

Door de hoogte  $h$  van het gat te veranderen, verandert ook de plaats waar de waterstraal in de vijver terechtkomt. Er is een hoogte van het gat waarvoor de afstand van deze plaats tot de buis maximaal is.

- 4p 14 Bereken langs algebraïsche weg deze maximale afstand. Rond je eindantwoord af op hele centimeters.

**Let op: de laatste vraag van dit examen staat op de volgende pagina.**

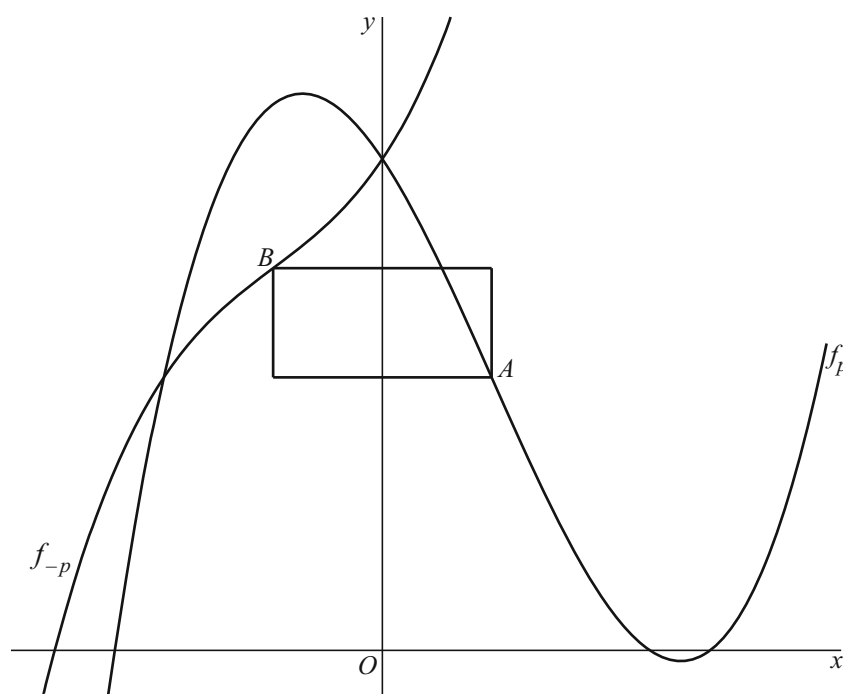
## Vierkant tussen buigpunten

De functie  $f_p$  is voor elke waarde van  $p$  gegeven door:

$$f_p(x) = (x - 3p)(x^2 - 3p)$$

Voor elke waarde van  $p$  hebben de grafieken van  $f_p$  en  $f_{-p}$  beide een buigpunt. In de onderstaande figuur zijn voor een waarde van  $p$  met  $p > 0$  de grafieken van  $f_p$  en  $f_{-p}$  met hun buigpunten  $A$  en  $B$  getekend. Verder is de rechthoek met hoekpunten  $A$  en  $B$  getekend waarvan twee zijden evenwijdig zijn met de  $x$ -as en de andere twee zijden evenwijdig zijn met de  $y$ -as.

**figuur**



De coördinaten van de buigpunten zijn afhankelijk van  $p$ .

Er is een positieve waarde van  $p$  waarvoor de rechthoek een vierkant is.

- 9p **15** Bereken deze waarde van  $p$ . Geef je antwoord in twee decimalen nauwkeurig.