

Examen VWO 2017

wiskunde-examens.nl heeft bij
vraag 4 de opmerking uit het correctievoorschrift
toegevoegd dat de vraag niet volledig gedekt is door de syllabus
en er zodoende altijd 4 punten voor die vraag toegekend worden.

tijdvak 2
dinsdag 20 juni
13.30 - 16.30 uur

wiskunde A

Bij dit examen hoort een uitwerkbijlage.

Achter het correctievoorschrift is een aanvulling op het correctievoorschrift opgenomen.

Dit examen bestaat uit 20 vragen.

Voor dit examen zijn maximaal 83 punten te behalen.

Voor elk vraagnummer staat hoeveel punten met een goed antwoord behaald kunnen worden.

Als bij een vraag een verklaring, uitleg of berekening vereist is, worden aan het antwoord meestal geen punten toegekend als deze verklaring, uitleg of berekening ontbreekt.

Geef niet meer antwoorden (redenen, voorbeelden e.d.) dan er worden gevraagd. Als er bijvoorbeeld twee redenen worden gevraagd en je geeft meer dan twee redenen, dan worden alleen de eerste twee in de beoordeling meegeteld.

OVERZICHT FORMULES

Kansrekening

Voor toevalsvariabelen X en Y geldt: $E(X + Y) = E(X) + E(Y)$

Voor onafhankelijke toevalsvariabelen X en Y geldt:

$$\sigma(X + Y) = \sqrt{\sigma^2(X) + \sigma^2(Y)}$$

\sqrt{n} -wet: bij een serie van n onafhankelijk van elkaar herhaalde experimenten geldt voor de som S en het gemiddelde \bar{X} van de uitkomsten X :

$$E(S) = n \cdot E(X) \quad \sigma(S) = \sqrt{n} \cdot \sigma(X)$$

$$E(\bar{X}) = E(X) \quad \sigma(\bar{X}) = \frac{\sigma(X)}{\sqrt{n}}$$

Binomiale verdeling

Voor de binomiaal verdeelde toevalsvariabele X , waarbij n het aantal experimenten is en p de kans op succes per keer, geldt:

$$P(X = k) = \binom{n}{k} \cdot p^k \cdot (1-p)^{n-k} \quad \text{met } k = 0, 1, 2, 3, \dots, n$$

$$\text{Verwachting: } E(X) = n \cdot p \quad \text{Standaardafwijking: } \sigma(X) = \sqrt{n \cdot p \cdot (1-p)}$$

Normale verdeling

Voor een toevalsvariabele X die normaal verdeeld is met gemiddelde μ en standaardafwijking σ geldt:

$$Z = \frac{X - \mu}{\sigma} \text{ is standaard-normaal verdeeld en } P(X < g) = P(Z < \frac{g - \mu}{\sigma})$$

Differentiëren

naam van de regel	functie	afgeleide
somregel	$s(x) = f(x) + g(x)$	$s'(x) = f'(x) + g'(x)$
productregel	$p(x) = f(x) \cdot g(x)$	$p'(x) = f'(x) \cdot g(x) + f(x) \cdot g'(x)$
quotiëntregel	$q(x) = \frac{f(x)}{g(x)}$	$q'(x) = \frac{f'(x) \cdot g(x) - f(x) \cdot g'(x)}{(g(x))^2}$
kettingregel	$k(x) = f(g(x))$	$k'(x) = f'(g(x)) \cdot g'(x)$ of $\frac{dk}{dx} = \frac{df}{dg} \cdot \frac{dg}{dx}$

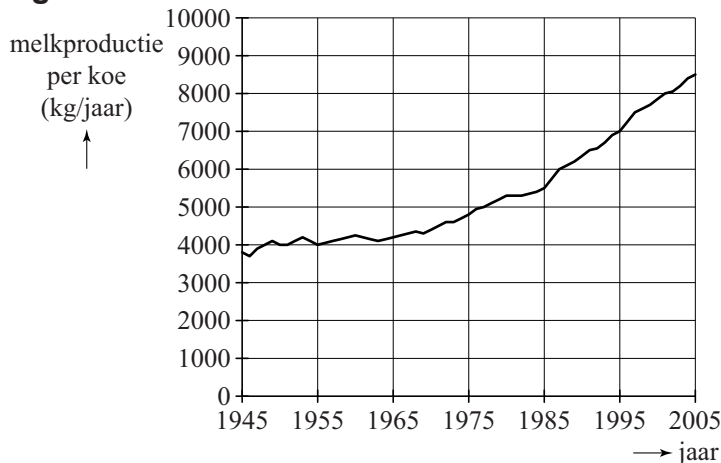
Logaritmen

regel	voorwaarde
${}^g \log a + {}^g \log b = {}^g \log ab$	$g > 0, g \neq 1, a > 0, b > 0$
${}^g \log a - {}^g \log b = {}^g \log \frac{a}{b}$	$g > 0, g \neq 1, a > 0, b > 0$
${}^g \log a^p = p \cdot {}^g \log a$	$g > 0, g \neq 1, a > 0$
${}^g \log a = \frac{{}^p \log a}{{}^p \log g}$	$g > 0, g \neq 1, a > 0, p > 0, p \neq 1$

Eiwit en vet in melk

Nederlandse koeien zijn de afgelopen tientallen jaren spectaculair meer melk gaan produceren. In figuur 1 zie je het verloop van de gemiddelde melkproductie per koe. In deze figuur staat boven elk jaartal de waarde zoals deze op 31 december van dat jaar was. Figuur 1 staat vergroot op de uitwerkbijlage.

figuur 1



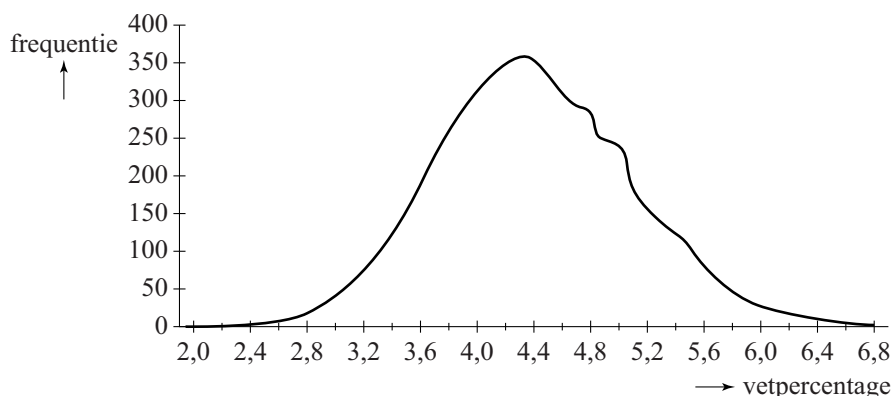
Als we aannemen dat de gemiddelde melkproductie per koe vanaf 1985 lineair toeneemt, kunnen we met behulp van figuur 1 een schatting geven van het jaar waarin de gemiddelde melkproductie per koe 12 000 kg per jaar is.

- 4p 1 Bereken vanaf welk jaar de gemiddelde melkproductie per koe voor het eerst meer dan 12 000 kg per jaar zal zijn.

In 2004 ging het Milk Genomics Initiative (MGI) van start. Het MGI is een onderzoek naar de mogelijkheid om door fokkerijmaatregelen de samenstelling van melk te beïnvloeden. Door selectie van de meest geschikte dieren is de samenstelling van het vet en het eiwit aan te passen aan specifieke wensen.

In figuur 2 zie je dat de verdeling van het vetpercentage in de melk van Nederlandse koeien in 2005 bij benadering normaal verdeeld is. Het gemiddelde vetpercentage is 4,4% en de standaardafwijking is 0,7%.

figuur 2



Volle melk moet volgens de wet minimaal 3,5% vet bevatten. Niet alle geproduceerde melk kan dus verwerkt worden tot volle melk.

- 3p 2 Bereken, uitgaande van bovengenoemde normale verdeling, hoeveel procent van de geproduceerde melk verwerkt kan worden tot volle melk. Rond je antwoord af op een geheel percentage.

Ook bij het eiwitpercentage gaan we uit van een normale verdeling. Het gemiddelde eiwitpercentage is 3,5% en de standaardafwijking is 0,4%. Neem aan dat het eiwitpercentage (E) en het vetpercentage (V) onafhankelijk van elkaar zijn.

Van de melk van een koe moet het eiwitpercentage ten minste 3,0% zijn en het vetpercentage ten minste 3,8%. Als één van deze percentages of beide percentages te laag zijn, wordt de koe extra in de gaten gehouden.

- 5p 3 Bereken hoeveel procent van de koeien extra in de gaten moet worden gehouden.

Als het vetpercentage van de melk lager is dan het eiwitpercentage bestaat het risico dat de koe last krijgt van pensverzuring. Noem het vetpercentage V en het eiwitpercentage E . Dan loopt een koe dus het risico op pensverzuring als $V < E$, ofwel als $V - E < 0$.

We nemen dus aan dat de toevalsvariabelen V en E beide normaal verdeeld zijn en ook dat V en E onafhankelijk zijn. Hierdoor is de toevalsvariabele $V - E$ ook normaal verdeeld.

- 4p 4 Bereken met behulp van $V - E$ bij hoeveel procent van de koeien het risico op pensverzuring bestaat.

Opmerking van wiskunde-examens.nl:

Vraag 4 wordt niet volledig gedekt door de syllabus.

In het (gecorrigeerde) correctievoorschrift wordt dan ook altijd 4 punten toegekend voor deze vraag.

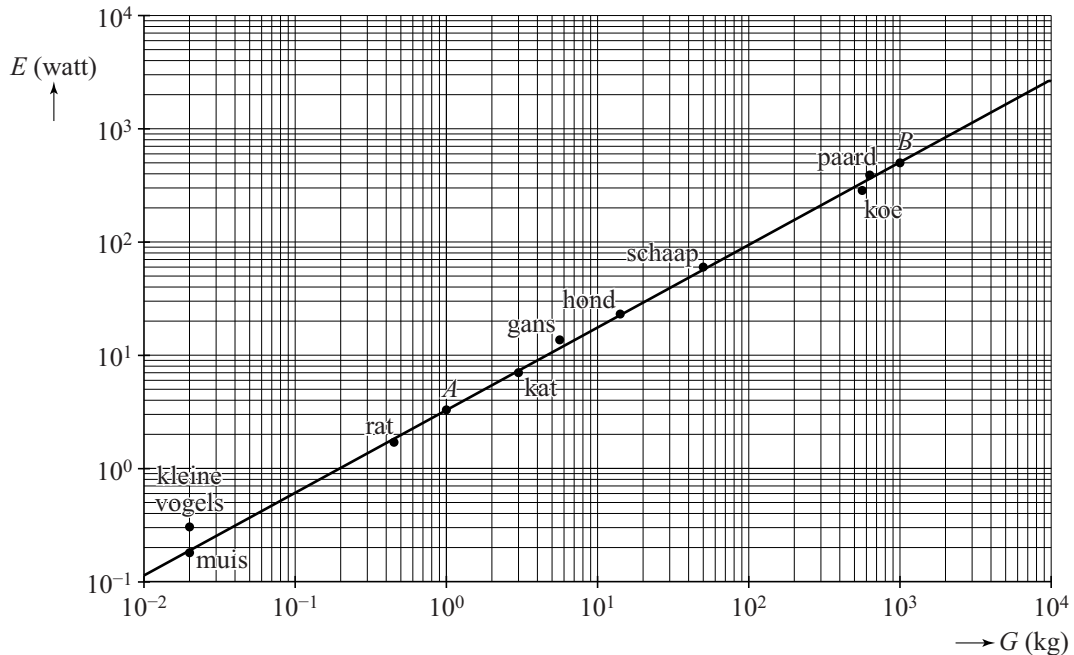
Om het eiwitpercentage in de melk te verhogen wordt speciale voeding aangeboden, waarvan de leverancier beweert dat het eiwitpercentage hoger zal worden. Bij een bedrijf met 44 koeien werd onderzocht of hierdoor het eiwitpercentage inderdaad hoger werd. Voordat de speciale voeding werd aangeboden, was het gemiddelde eiwitpercentage van deze 44 koeien 3,49%. Met de speciale voeding was dit eiwitpercentage 3,60%. Neem aan dat voor elke koe de standaardafwijking van het eiwitpercentage 0,4% was.

- 6p 5 Onderzoek met behulp van een hypothesetoets of er aanleiding is om te veronderstellen dat door de speciale voeding bij dit bedrijf het eiwitpercentage in de melk inderdaad hoger werd. Neem een significantieniveau van 5%.

Gewicht van dieren

Bij dieren is het energieverbruik afhankelijk van het gewicht. In de figuur staat voor een aantal diersoorten het verband tussen het energieverbruik E en het gewicht G . Hierbij is E het energieverbruik in watt en G het gewicht in kg. De figuur staat ook op de uitwerkbijlage.

figuur



Zowel langs de horizontale as als langs de verticale as is een logaritmische schaalverdeling gebruikt. De punten die de verschillende dieren weergeven, liggen nagenoeg op de getekende rechte lijn door de punten $A(1; 3,27)$ en $B(1000; 520)$. Het verband tussen E en G is te schrijven als:

$$E = a \cdot G^b$$

Hierin is E het energieverbruik in watt en G het gewicht in kg. Afgerond zijn de waarden van a en b : $a = 3,3$ en $b = 0,73$.

- 4p **6** Bereken, uitgaande van de genoemde punten A en B , de waarde van a in twee decimalen nauwkeurig en de waarde van b in drie decimalen nauwkeurig.

Aan de hand van de figuur en de formule $E = 3,3 \cdot G^{0,73}$ kun je onderzoeken of de volgende stellingen waar zijn.

I. Een tien keer zo zwaar dier verbruikt ook tien keer zo veel energie.

II. Een kat verbruikt per kg gewicht minder energie dan een schaap.

5p 7 Onderzoek voor beide stellingen of ze waar zijn. Gebruik zo nodig de uitwerkbijlage.

3p 8 Stel een formule op voor de afgeleide van E en onderzoek met behulp hiervan of E toenemend stijgend of afnemend stijgend is.

Je kunt de formule $E = 3,3 \cdot G^{0,73}$ herleiden tot de vorm

$$\log(E) = p + q \cdot \log(G).$$

4p 9 Geef deze herleiding en geef de waarden van p en q in twee decimalen nauwkeurig.

Accountantscontrole

Een accountant controleert de financiële administratie van ondernemingen.

Om na te gaan of een ondernemer de geldbedragen mogelijk zelf verzonnen heeft, gebruikt een accountant een speciale methode. Deze methode is erop gebaseerd dat mensen een voorkeur of juist een afkeer hebben voor bepaalde cijfers. Vaak zijn zij zich daarvan niet bewust. In deze opgave gaan we hier nader op in.

Aan een proefpersoon wordt gevraagd om 100 keer een willekeurig cijfer van 0 tot en met 9 te noteren. Neem aan dat hierbij elk cijfer een even grote kans heeft om te worden genoteerd.

3p 10 Bereken de kans dat het cijfer 8 precies 10 keer voorkomt als iemand willekeurig 100 cijfers noteert.

Onderzoek heeft aangetoond dat de meeste mensen, als zij zelf getallen verzinnen, niet alle cijfers ongeveer even vaak noteren. Meestal komen één of twee cijfers zó vaak of juist zó weinig voor, dat er niet meer gesproken kan worden van een afwijking die op het toeval is gebaseerd.

De financiële administratie van schoenenwinkel De Klomp wordt gecontroleerd door een accountant. Hij controleert de bedragen van de dagomzetten van een heel jaar en hij gaat hierbij na hoe vaak de cijfers 0 tot en met 9 daarin voorkomen. Van elk getal laat hij het eerste cijfer en de cijfers achter de komma buiten beschouwing.

Hij gaat ervan uit dat elk cijfer even vaak voorkomt. Als een of meer cijfers veel vaker of veel minder vaak voorkomen dan mag worden verwacht, is dat een aanwijzing dat de ondernemer de bedragen zelf heeft verzonnen.

In tabel 1 zijn de resultaten opgenomen van de controle op de dagomzetten. De accountant heeft 920 cijfers in zijn onderzoek betrokken.

tabel 1

cijfer	0	1	2	3	4	5	6	7	8	9
frequentie	78	92	85	111	98	104	84	89	85	94

De accountant gebruikt voor zijn onderzoek de frequenties van alle cijfers.

De methode gaat als volgt:

- Bepaal voor elk cijfer het verschil tussen de echte frequentie en de verwachte frequentie.
- Kwadrateer die verschillen.
- Tel alle kwadraten op.
- Deel de uitkomst door de verwachte frequentie van een willekeurig cijfer.

De accountant vindt in zijn handboek dat het zo gevonden getal niet groter mag zijn dan 19,0.

- 4p 11 Bereken of de accountant reden heeft om aan te nemen dat de cijfers van de dagomzetten door de ondernemer zijn verzonden.

De accountant controleert ook de kosten die door De Klomp zijn opgevoerd. De rekeningen van die kosten zijn door De Klomp bewaard in 40 ordners. In 2 van de 40 ordners ontbreken rekeningen. We noemen dit 'foute ordners'.

De accountant controleert bij wijze van steekproef 20 willekeurig gekozen ordners. In zo'n steekproef kunnen 0,1 of 2 foute ordners zitten. In tabel 2 kun je de kans aflezen op elk van die mogelijkheden.

tabel 2

aantal foute ordners	0	1	2
kans	0,2436	0,5128	0,2436

De kansen in tabel 2 zijn afgerond op vier decimalen.

- 4p 12 Bereken de kans op 2 foute ordners in vijf decimalen nauwkeurig.

Als de accountant een ordner controleert waarin rekeningen ontbreken, is het niet zeker dat hij dat ook zal ontdekken.

De bedrijfsleiding van De Klomp heeft dit bij eerdere controles regelmatig gezien. Zij schat de kans dat de accountant het ontbreken van rekeningen ontdekt op 0,75 voor elke foute ordner.

Neem aan dat die kans nu inderdaad 0,75 is.

De accountant kiest willekeurig 20 ordners en controleert deze.

- 6p 13 Bereken de kans dat de accountant bij de controle van de kosten zal concluderen dat er rekeningen ontbreken.

Zuiniger rijden

Veel moderne auto's tonen op het bedieningspaneel een schatting van het aantal kilometers dat je nog kunt rijden zonder te tanken.

Dit noem je de **actieradius**.

Een automobilist zag bijvoorbeeld de informatie van figuur 1 op zijn bedieningspaneel.

Hier is 'Tot. afstand' de totale afstand die de auto tot dat moment heeft gereden.

figuur 1

Actieradius	545 km

Tot. afstand	7927 km

De actieradius wordt berekend op basis van:

- de nog aanwezige hoeveelheid benzine in de tank;
- het rijgedrag tot op dat moment.

Toen dezelfde automobilist wat zuiniger ging rijden, kreeg hij de informatie van figuur 2 te zien.

Zoals je ziet, heeft hij 20 km gereden.

Toch is zijn actieradius niet met 20 km afgenomen, maar slechts met 17 km.

Hij is dus inderdaad iets zuiniger gaan rijden en hij heeft zodoende 3 kilometer '**gewonnen**'.

figuur 2

Actieradius	528 km

Tot. afstand	7947 km

De automobilist neemt zich voor om op zekere dag zijn benzinetank volledig te vullen en dan zo zuinig mogelijk te gaan rijden. De afstand in km die hij rijdt vanaf het moment dat hij getankt heeft, noemen we x .

De automobilist houdt de eerste 200 km bij wat er gebeurt met de actieradius A (in km) op zijn bedieningspaneel. Zie de tabel.

tabel

x	0	50	100	150	200
$A(x)$	625	582	539	496	452

Tussen $x = 0$ en $x = 100$ neemt de actieradius met minder dan 100 km af.

De automobilist 'wint' dus kilometers op dit traject.

3p **14** Bereken hoeveel kilometer hij op dit traject wint door zuinig te rijden.

De automobilist maakt een wiskundig model bij de tabel. Hij stelt de volgende formule op:

$$A(x) = 5000 \cdot \frac{5000 - 7,2x}{40000 - 3x}$$

Op het moment dat hij begint te rijden met de volle tank, dus als $x = 0$, is de actieradius veel kleiner dan de afstand die hij in werkelijkheid zal rijden met deze tankinhoud.

Op het moment dat de tank leeg is, is de actieradius gelijk aan 0.

- 4p **15** Bereken hoeveel km de automobilist volgens het model met een volle tank in werkelijkheid méér kan rijden dan het bedieningspaneel bij vertrek aangaf.

Dat de automobilist inderdaad kilometers wint, kun je ook nagaan door het verloop te bekijken van de som $S(x)$ van het aantal werkelijk gereden kilometers en de actieradius. Als de automobilist kilometers wint, zal $S(x)$ namelijk stijgend zijn. De formule voor $S(x)$ is:

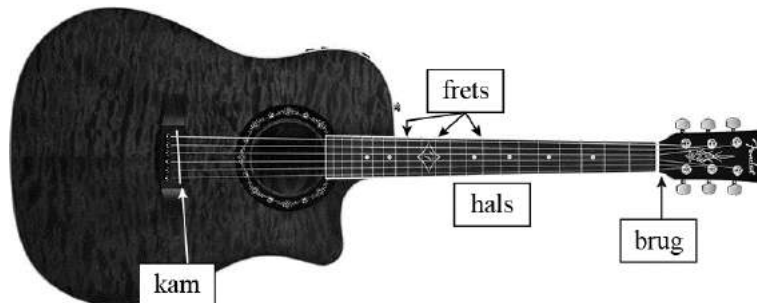
$$S(x) = x + A(x) = x + 5000 \cdot \frac{5000 - 7,2x}{40000 - 3x}$$

- 5p **16** Bepaal de afgeleide van $S(x)$ en laat met behulp van een schets van de afgeleide zien dat de automobilist op het traject van $x = 0$ tot $x = 500$ voortdurend kilometers wint.

Gitaar

In figuur 1 zie je een gitaar. De snaren zijn gespannen tussen de **brug** en de **kam**. Op de hals zijn zogenoemde **frets** (smalle metalen strips) te zien.

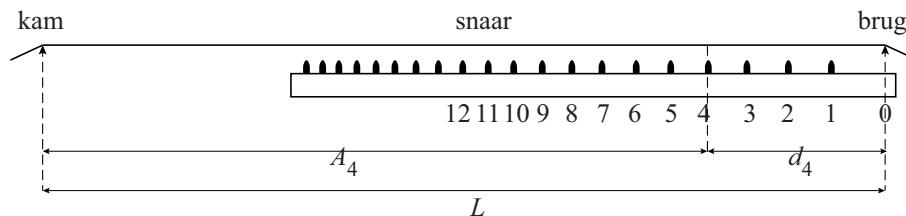
figuur 1



Als je een snaar aanslaat zonder op een fret te drukken, gaat de hele snaar tussen de brug en de kam trillen. Door een snaar tegen een fret aan te drukken, wordt de gebruikte snaarlengte korter. Je krijgt dan een andere toon. Om de goede tonen te krijgen, moet bij het bouwen van een gitaar de juiste plaats van de frets berekend worden.

Figuur 2 geeft een schematisch zijaanzicht van de hals. De eerste 12 frets zijn daarin vanaf de brug genummerd.

figuur 2



De lengte van een snaar in cm tussen de brug en de kam noemen we L . A_n is de afstand in cm tussen de fret met nummer n en de kam, en d_n is de afstand in cm tussen de fret met nummer n en de brug.

In figuur 2 zijn A_4 en d_4 aangegeven. Voor A_n geldt de volgende formule:

$$A_n = L \cdot 0,9439^n$$

Van een bepaalde gitaar is de afstand tussen fret nummer 6 en de brug gelijk aan 20 cm.

- 4p 17 Bereken de lengte L van een snaar van deze gitaar. Rond je antwoord af op hele cm.

De groeifactor in de formule is berekend op basis van de volgende uitgangspunten:

- er is een exponentieel verband tussen A_n en n ;
- de 12e fret ligt precies midden tussen de brug en de kam.

4p **18** Bereken met behulp van deze twee uitgangspunten de groeifactor in vijf decimalen nauwkeurig.

De theoretische formule die hiervoor geldt, is:

$$A_n = \frac{L}{2^{\binom{n}{12}}}$$

Deze formule kan worden herleid tot:

$$A_n = L \cdot 0,9439^n$$

3p **19** Laat deze herleiding zien.

In de zestiende eeuw werd voor het berekenen van de positie van de frets de ‘Regel van 18’ gebruikt. Deze rekenwijze gaat als volgt:

- Deel de totale snaarlengte L door 18. De uitkomst is de afstand tussen de brug en fret 1. Deze afstand is dus d_1 .
- Bereken nu A_1 , de afstand tussen fret 1 en de kam.
- Deel A_1 door 18 en tel bij het antwoord vervolgens d_1 op. Je hebt nu d_2 , de afstand tussen de brug en fret 2.
- Herhaal deze procedure om de afstand tussen de brug en fret 3 te berekenen, enzovoort.

Een gitaarbouwer wil voor het plaatsen van de frets de afstanden tussen de brug en de frets weten. Hij kan deze afstanden met de Regel van 18 of met de formule berekenen. Deze twee methoden leveren verschillende afstanden op. Ga uit van een afstand tussen brug en kam van 65 cm.

5p **20** Onderzoek hoeveel de afstand tussen de brug en fret 2, berekend met de formule, verschilt van de afstand berekend met de Regel van 18. Geef je antwoord in tienden van mm nauwkeurig.