

Examen VWO 2007

tijdvak 1
vrijdag 1 juni
13.30 - 16.30 uur

wiskunde A1,2

Bij dit examen hoort een uitwerkbijlage.

Dit examen bestaat uit 20 vragen.

Voor dit examen zijn maximaal 85 punten te behalen.

Voor elk vraagnummer staat hoeveel punten met een goed antwoord behaald kunnen worden.

Als bij een vraag een verklaring, uitleg of berekening vereist is, worden aan het antwoord meestal geen punten toegekend als deze verklaring, uitleg of berekening ontbreekt.

Geef niet meer antwoorden (redenen, voorbeelden e.d.) dan er worden gevraagd. Als er bijvoorbeeld twee redenen worden gevraagd en je geeft meer dan twee redenen, dan worden alleen de eerste twee in de beoordeling meegeteld.

Restzetels

Op 2 maart 1994 vonden er in Nederland gemeenteraadsverkiezingen plaats. In de gemeente Enschede werden 67 787 stemmen uitgebracht. De verkiezingsuitslag is weergegeven in tabel 1. In de tweede kolom is af te lezen hoeveel stemmen elke partij heeft behaald. In de laatste kolom van deze tabel staat aangegeven hoe, op basis van de verkiezingsuitslag, de zetelverdeling in de gemeenteraad van Enschede uiteindelijk is geworden. Het proces om stemmen om te rekenen naar aantallen zetels is ingewikkeld. We gaan daar verderop in deze opgave nader op in. Eerst kijken we alleen naar het resultaat van de zetelverdeling.

tabel 1

partij	aantal stemmen	aantal volle zetels	aantal zetels in de gemeenteraad
1. PvdA	15 329	8	10
2. CDA	12 584	7	8
3. VVD	9080	5	5
4. D66	8751	5	5
5. GroenLinks	5150	2	3
6. GPV	3399	1	2
7. CD	2730	1	1
8. SP	1549	0	1
9. NCPN	589	0	0
10. van Loenen	2955	1	1
11. Enschede Nu	5671	3	3
totaal aantal uitgebrachte stemmen:	67 787	totaal aantal zetels:	39

Uit de tabel volgt dat PvdA, VVD en D66 samen een meerderheid kregen van de zetels in de gemeenteraad. Toch hadden deze drie partijen samen geen meerderheid van de stemmen.

- 4p 1 Laat met behulp van de gegevens in de tabel zien dat PvdA, VVD en D66 samen inderdaad een meerderheid aan zetels maar niet een meerderheid aan stemmen hebben behaald.

Om te bepalen op hoeveel zetels partijen recht hebben, wordt eerst de **kiesdeler** bepaald. De kiesdeler wordt berekend door het totaal aantal uitgebrachte stemmen te delen door het aantal beschikbare zetels in de gemeenteraad.

- 3p 2 Bereken de kiesdeler voor de verkiezingsuitslag van Enschede in 1994. Geef je antwoord in 3 decimalen nauwkeurig.

Om het aantal zetels te bepalen waar een partij recht op heeft, wordt vervolgens bij elke partij het aantal op die partij uitgebrachte stemmen gedeeld door de kiesdeler. Voor bijvoorbeeld de PvdA is de uitkomst hiervan ongeveer 8,82; daarom heeft de PvdA 8 **volle zetels**. In de derde kolom van tabel 1 staat het aantal volle zetels van elke partij.

De beschikbare zetels in de gemeenteraad die nog niet zijn verdeeld met de volle zetels heten de **restzetels**. Voor de verdeling van de restzetels moet volgens de kieswet het systeem van de **grootste gemiddelden** worden gehanteerd. In de kieswet staat dit systeem als volgt beschreven:

fragment uit de Kieswet

Bij de verdeling van de restzetels volgens het systeem van de grootste gemiddelden wordt voor elke partij in gedachten één zetel opgeteld bij het behaalde aantal volle zetels. Vervolgens wordt het aantal op de partij uitgebrachte stemmen gedeeld door dit denkbeeldige aantal zetels. Op deze wijze wordt voor elke partij het gemiddelde aantal stemmen per zetel bepaald. De partij met het grootste gemiddelde krijgt een restzetel toebedeeld. Aldus ontstaat een nieuwe tussenstand bij de zetelverdeling. Zolang er nog restzetels te verdelen zijn, wordt de hierboven beschreven procedure herhaald. Uitgaande van de nieuwe tussenstand wordt dan wederom in gedachten bij elke partij één zetel opgeteld bij het (in de tussenstand) behaalde aantal zetels. Wederom wordt de volgende restzetel toebedeeld aan de partij met het grootste gemiddelde aantal stemmen per zetel. De systematiek voor de restzetelverdeling kan er toe leiden dat een partij meer dan één restzetel behaalt.

- 5p 3 Laat met berekeningen zien dat de eerste restzetel werd toegewezen aan GroenLinks.

De laatste restzetel werd toebedeeld aan de PvdA. Daaruit kun je concluderen dat de PvdA bij de verdeling van de laatste restzetel (dus bij de laatste tussenstand) 9 zetels had en de VVD 5 zetels. De berekening van de gemiddelde aantallen stemmen per zetel laat zien waarom de laatste restzetel naar de PvdA gaat en niet naar de VVD: $\frac{15329}{10} > \frac{9080}{6}$.

Veronderstel nu eens dat een aantal mensen niet op de PvdA maar op de VVD gestemd zou hebben. Als dat aantal voldoende groot is, zou de VVD de laatste restzetel hebben gekregen.

- 5p 4 Bereken hoe groot het bedoelde aantal ten minste moet zijn.

Rijexamen

Door het CBR (Centraal Bureau Rijvaardigheidsbewijzen) worden jaarlijks ruim 400 000 examens voor een rijbewijs voor personenauto's afgenomen. Dit examen bestaat uit twee delen: een theorie-examen en een praktijkexamen. Je moet eerst geslaagd zijn voor het theorie-examen voordat je mag deelnemen aan het praktijkexamen.



Vóór 1 oktober 2002 bestond het theorie-examen uit 50 ja/nee-vragen. Een kandidaat was geslaagd voor het theorie-examen als ten minste 45 ja/nee-vragen goed werden beantwoord.

Hannie Samson wist, tijdens haar theorie-examen, van 41 ja/nee-vragen het goede antwoord. Door de overige 9 ja/nee-vragen te gokken, had Hannie Samson toch een kans om te slagen.

5p **5** Bereken deze kans. Geef je antwoord in 2 decimalen nauwkeurig.

Sinds 1 oktober 2002 is het theorie-examen vernieuwd. In het nieuwe theorie-examen zitten bij de 50 vragen niet alleen ja/nee-vragen maar ook andersoortige vragen zoals open vragen en/of driekeuzevragen. Ook nu is een kandidaat geslaagd voor het theorie-examen als ten minste 45 vragen goed worden beantwoord.

Herman Spiering doet een theorie-examen dat bestaat uit 40 ja/nee-vragen en 7 driekeuzevragen en 3 open vragen. Hij weet alleen het goede antwoord van 36 ja/nee-vragen en 6 driekeuzevragen. De 3 open vragen heeft hij in ieder geval fout. Van de resterende vragen moet Herman het antwoord gokken. Herman kan nog slagen voor dit examen. Dan moet hij ten minste drie van de vier resterende ja/nee-vragen goed gokken of hij moet twee van de vier resterende ja/nee-vragen én de resterende driekeuzevraag goed gokken.

4p **6** Bereken de kans dat Herman zal slagen voor dit theorie-examen. Geef je antwoord in 2 decimalen nauwkeurig.

Als je slaagt voor het theorie-examen mag je praktijkexamen doen. Als je zakt voor je praktijkexamen, kun je enige maanden later opnieuw praktijkexamen doen. Sommige kandidaten zakken meerdere keren voor het praktijkexamen. Het CBR houdt gegevens bij over de slaag- en zakkcijfers van de kandidaten die opgaan voor het rijexamen. Uit de gegevens van het CBR blijkt dat een kandidaat steeds dezelfde kans heeft om te slagen voor het praktijkexamen. Hierbij speelt het dus geen rol of die kandidaat voor de eerste keer examen doet of al één of meer keren gezakt is. Verder blijkt dat 11% van alle kandidaten na 4 keer nog steeds niet is geslaagd voor het praktijkexamen.

Op basis van deze gegevens kun je nu berekenen hoe groot de kans is dat iemand de eerste keer al slaagt voor het praktijkexamen.

4p 7 Bereken deze kans. Geef je antwoord in 2 decimalen nauwkeurig.

Bij het CBR bestaat het rijexamen voor de motor ook uit een theorie-examen en een praktijkexamen. Volgens de gegevens van het CBR slaagt landelijk 65,5% van alle kandidaten bij de eerste keer voor het praktijkexamen voor de motor.

Onlangs is een rijsschool gestart die gespecialiseerd is in motorrijlessen. Van de eerste 20 cursisten die de rijsschool heeft opgeleid, zijn er 17 de eerste keer geslaagd voor hun praktijkexamen. De rijsschoolhouder vraagt zich af of dit een significant beter resultaat is dan het landelijke slagingspercentage.

6p 8 Onderzoek of de rijsschoolhouder mag concluderen dat zijn rijsschool een significant beter resultaat heeft behaald, vergeleken met het landelijke cijfer. Gebruik daarbij een significantieniveau van 1%.

Gevoelstemperatuur

Wanneer de temperatuur buiten 19 °C is en er geen wind staat, dan ervaren we dat als een lekkere temperatuur. Als er echter bij een temperatuur van 19 °C een flinke wind staat, dan vinden we het helemaal niet meer behaaglijk. Door de wind koelt het lichaam sneller af waardoor je het gevoel krijgt dat het kouder is dan in werkelijkheid: de **gevoelstemperatuur** is in dat geval lager dan de werkelijke temperatuur.

De gevoelstemperatuur wordt lager naarmate de windsnelheid toeneemt. In deze opgave bekijken we een tweetal modellen waarbij de gevoelstemperatuur wordt bepaald aan de hand van de werkelijke temperatuur en de windsnelheid. Het ene model is in 1948 gemaakt door de meteoroloog Court. De formule die bij dit model hoort is als volgt:

$$G_C = 33 + (T - 33) \cdot (0,550 - 0,0454w + 0,417\sqrt{w})$$

In deze formule is G_C de gevoelstemperatuur in °C, T de werkelijke temperatuur in °C en w de windsnelheid in m/s. De formule is geldig voor windsnelheden groter dan 1,8 m/s en voor werkelijke temperaturen beneden 33 °C.

Bij een werkelijke temperatuur van 20 °C en een windsnelheid van 12 m/s hoort een bepaalde gevoelstemperatuur. Die gevoelstemperatuur is gelijk aan de gevoelstemperatuur die hoort bij een werkelijke temperatuur van 16 °C en een lagere windsnelheid.

5p **9** Bereken die lagere windsnelheid.

Het model van Court is niet het eerste model in formulevorm. In 1945 maakten de wetenschappers Siple en Passel al een ander model. Bij hun model hoort de volgende formule:

$$G_{S\&P} = 33 + (T - 33) \cdot (0,474 - 0,0454w + 0,454\sqrt{w})$$

Hierin is $G_{S\&P}$ de gevoelstemperatuur in °C volgens het model van Siple en Passel; de betekenis van de overige letters is hetzelfde als bij de formule van Court. Ook de formule van Siple en Passel is geldig voor windsnelheden groter dan 1,8 m/s en temperaturen beneden 33 °C.

We willen weten in hoeverre de formule van Court nu eigenlijk verschilt van die van Siple en Passel. In deze opgave beperken we dit onderzoek tot de situatie waarbij de werkelijke temperatuur 0 °C is. In dat geval wordt het verband tussen de windsnelheid en gevoelstemperatuur volgens Siple en Passel gegeven door:

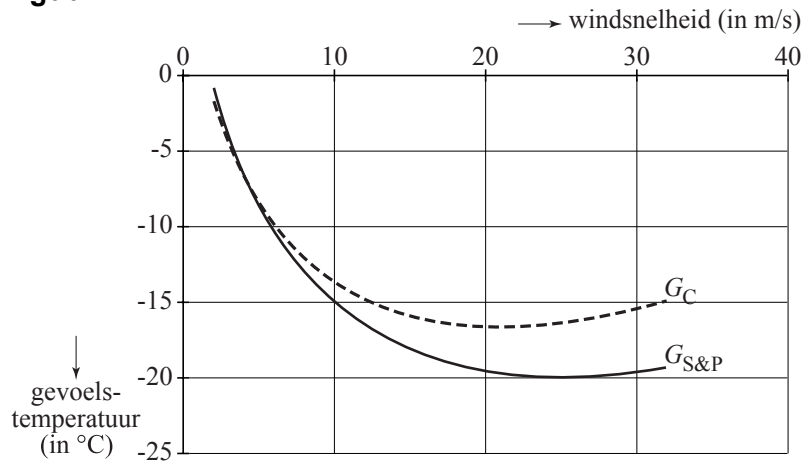
$$G_{S\&P} = 33 - 33 \cdot (0,474 - 0,0454w + 0,454\sqrt{w})$$

Volgens Court wordt in dat geval het verband tussen de windsnelheid en de gevoelstemperatuur gegeven door:

$$G_C = 33 - 33 \cdot (0,550 - 0,0454w + 0,417\sqrt{w})$$

Om een indruk te krijgen zijn in figuur 1 de grafieken afgebeeld die bij deze formules horen.

figuur 1



verband tussen windsnelheid en gevoelstemperatuur volgens Court en volgens Siple en Passel bij een werkelijke temperatuur van 0 °C

Je kunt zien dat de formule van Siple en Passel en de formule van Court voor windsnelheden kleiner dan 6 m/s ongeveer dezelfde gevoelstemperatuur opleveren.

- 3p **10** Bereken bij welke windsnelheid de laatste twee formules precies dezelfde gevoelstemperatuur geven. Geef je antwoord in twee decimalen nauwkeurig.

Je kunt in figuur 1 aan de vorm van de grafiek van de formule van Court zien dat deze formule boven een bepaalde windsnelheid niet meer realistisch kan zijn.

- 6p **11** Bereken met behulp van de afgeleide functie vanaf welke windsnelheid de formule van Court (bij een temperatuur van 0 °C) in elk geval niet meer realistisch is. Geef je antwoord in twee decimalen nauwkeurig.

Honingbijen

Biologen verrichten veel onderzoek bij diverse diersoorten. Vaak maken zij gebruik van wiskundige modellen om het gedrag van de betreffende diersoort te beschrijven. Daarover gaat deze opgave.

Dansende bijen

De honingbij (*Apis Mellifera*) verzamelt nectar van bloemen om honing van te maken. Soms halen de honingbijen de nectar van grote afstand.



Apis Mellifera, de honingbij

Honingbijen geven elkaar informatie over de afstand tot de voedselbron door zogenoemde kwispeldansen uit te voeren. Het aantal kwispeldansen dat een honingbij per minuut maakt is een maat voor de afstand. Voor afstanden tussen de 300 en 2700 meter geldt ruwweg de volgende formule: $y = \frac{36}{x+1}$. Hierin is x de afstand tot de voedselbron in kilometers en y het aantal kwispeldansen per minuut.

Een honingbij die een nieuwe voedselbron heeft ontdekt, maakt 16 kwispeldansen per minuut.

3p 12 Bereken de afstand tot deze voedselbron in meters nauwkeurig.

Een honingbij heeft een voedselbron ontdekt en maakt kwispeldansen om andere honingbijen te informeren over de afstand. Een andere honingbij heeft een andere voedselbron ontdekt die 1 kilometer dichterbij is. Deze honingbij maakt per minuut 40% meer kwispeldansen dan de eerste honingbij. Met behulp van de formule kun je berekenen om welke twee afstanden het hier gaat.

5p 13 Bereken deze twee afstanden.

Tastende bijen

Honingbijen blijken gedrag te kunnen aanleren. De bioloog J. Erber heeft daar onderzoek naar gedaan. In zijn experiment krijgt een aantal honingbijen een voorwerp voor zich geplaatst. Een honingbij die het voorwerp betast, wordt beloond met een suikeroplossing. De honingbij maakt dan een strekbeweging om de suikeroplossing op te zuigen. Direct daarna wordt het voorwerp weggehaald.

Na 5 minuten wordt het voorwerp weer teruggeplaatst: **de 1e conditionering**. Sommige honingbijen maken dan een strekbeweging. Deze worden direct beloond. De honingbijen die geen strekbeweging maken, worden pas beloond nadat ze het voorwerp hebben betast. In beide gevallen wordt het voorwerp weggehaald zodra de honingbij beloond is.

Na weer 5 minuten wordt het voorwerp opnieuw teruggeplaatst – **de 2e conditionering** – en wordt het hierboven beschreven proces herhaald. Iedere keer telt men hoeveel procent van de honingbijen direct uit zichzelf strekbewegingen maakt. Zo vertoont bijvoorbeeld bij de 2e conditionering ongeveer 10% van de honingbijen een strekbeweging. Bij de 3e conditionering is dat ongeveer 20%.

Het percentage honingbijen dat een strekbeweging maakt, blijkt te verlopen volgens de recurrenente betrekking:

$$P(n) = 4,0 + 1,6 \cdot P(n-1) - 0,012 \cdot (P(n-1))^2 \quad \text{met } P(0) = 0$$

Hierin is $P(n)$ het percentage bijen dat tijdens de n -de conditionering een strekbeweging maakt.

- 4p **14** Bereken met de recurrenente betrekking hoeveel procent van de honingbijen tijdens de 5e conditionering een strekbeweging maakt.

Uit experimenten blijkt dat lang niet alle bijen de strekbeweging zullen gaan maken. Daarom zal de bovenstaande recurrenente betrekking een grenswaarde moeten hebben die kleiner is dan 100.

- 4p **15** Onderzoek of dit zo is door de grenswaarde van de recurrenente betrekking te berekenen.

Nadat de bijen aan 15 conditioneringen zijn onderworpen, wordt het experiment vervolgd met conditioneringen zonder beloning. De aangeleerde neiging om een strekbeweging te maken, neemt dan af. Deze afname tijdens de conditioneringen zonder beloning (dus voor $n = 16, 17, 18$, enzovoort) blijkt exponentieel te verlopen en wel zodanig dat per 7 conditioneringen het aantal bijen dat nog reageert met een strekbeweging halveert. Dit betekent dat het verloop van het percentage honingbijen dat nog een strekbeweging maakt, geschreven kan worden in de vorm van een recurrenente betrekking:

$P(n+1) = a \cdot P(n)$ met $n \geq 16$. Hierin is a een constant (dus vast) getal.

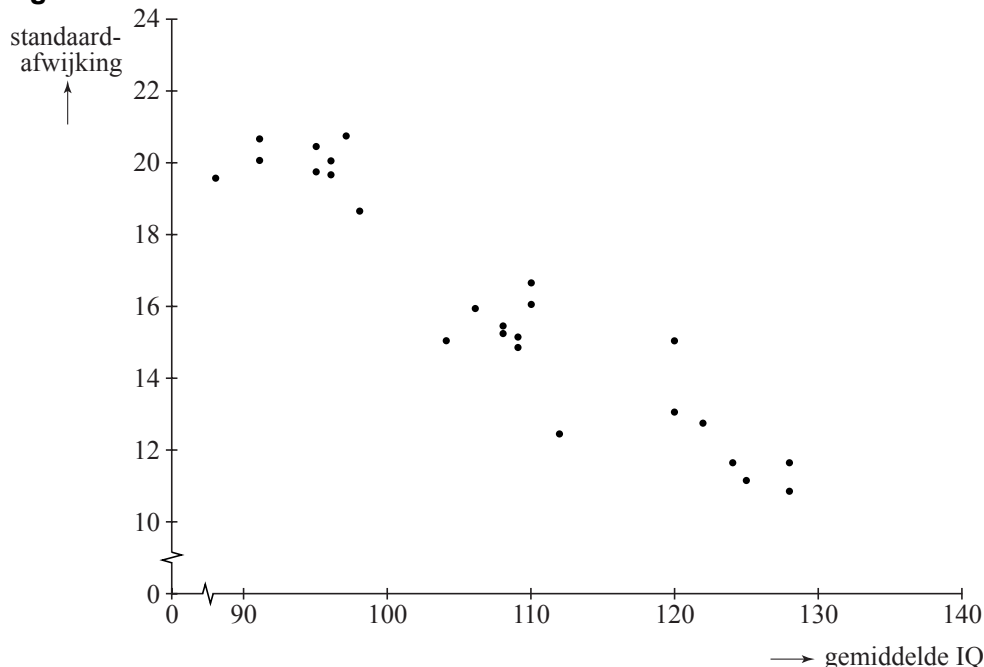
- 4p **16** Bereken a in twee decimalen nauwkeurig.

Een maat voor iemands intelligentie is het zogenaamde IQ (Intelligentie Quotiënt). Hoe intelligenter een persoon is, hoe hoger zijn/haar IQ is. Het IQ is bij benadering normaal verdeeld.

In deze opgave nemen we aan dat het IQ van een Nederlander normaal verdeeld is met een gemiddelde waarde van 100 en een standaardafwijking van 15.

Van een groot aantal mensen in 25 verschillende beroepsgroepen is het IQ gemeten. Voor elke beroepsgroep is vervolgens het gemiddelde IQ en de standaardafwijking bepaald. Deze waarden zijn uitgezet met stippen in de grafiek van figuur 2. Bij elke beroepsgroep hoort dus een stip.

figuur 2



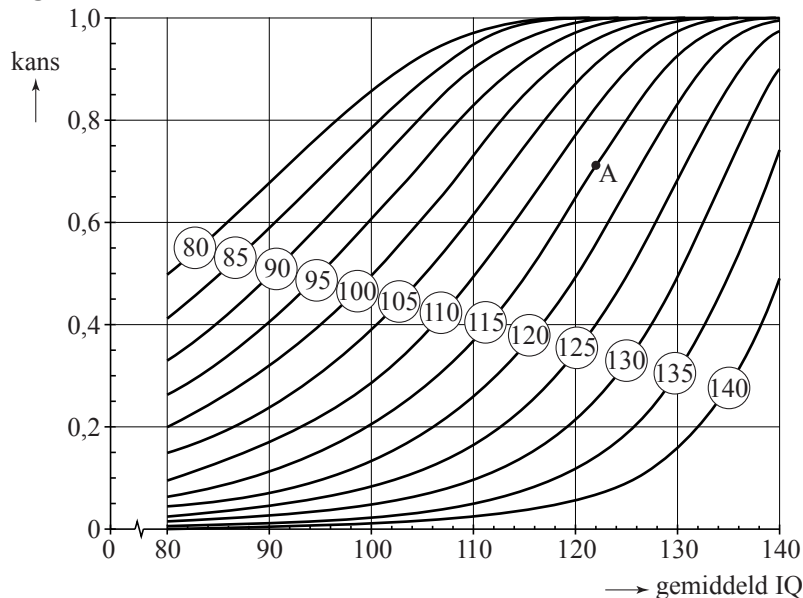
We nemen aan dat binnen elke beroepsgroep het IQ van een persoon uit die beroepsgroep normaal verdeeld is. In figuur 2 is duidelijk te zien dat naarmate het gemiddelde IQ van een beroepsgroep groter is, de standaardafwijking kleiner is. Door de puntenwolk in de grafiek van figuur 2 kan een zo goed mogelijk passende rechte lijn worden getrokken. De formule voor deze lijn luidt: $\sigma = 45,5 - 0,272 \cdot \mu$. Hierin is σ de standaardafwijking en μ het gemiddeld IQ van een beroepsgroep.

Twee beroepsgroepen blijken een gemiddeld IQ van 110,6 en 115,3 te hebben. Beide beroepsgroepen zijn niet opgenomen in figuur 2. We veronderstellen echter dat ook voor deze beroepsgroepen de formule van de lijn gebruikt mag worden.

- 3p **17** Bereken hoeveel de bijbehorende standaardafwijkingen volgens de formule van de lijn van elkaar verschillen.

In het vervolg van de opgave gaan we er omwille van de eenvoud vanuit dat de formule $\sigma = 45,5 - 0,272 \cdot \mu$ exact klopt voor waarden van μ tussen 80 en 140. Uitgaande van de normale verdeling kunnen we met deze formule voor elke waarde van het gemiddelde μ berekenen hoe groot de kans is dat een persoon uit een beroepsgroep met dat gemiddelde een IQ heeft dat groter is dan 80, 85, 90, ..., 135, 140. Het resultaat van deze berekeningen is grafisch weergegeven in figuur 3.

figuur 3



Bij punt A lezen we af dat de kans ongeveer 0,7 is dat een persoon uit een beroepsgroep met gemiddeld IQ van 122 een IQ heeft dat groter is dan 115.

Ofwel in formulevorm:

$$P(\text{IQ} > 115) \approx 0,7, \text{ waarbij } \mu = 122.$$

Uitgaande van het verband $\sigma = 45,5 - 0,272 \cdot \mu$ kunnen we deze kans nauwkeuriger berekenen.

- 4p **18** Bereken deze kans. Geef je antwoord in 3 decimalen nauwkeurig.

Uit een grote beroepsgroep met een gemiddeld IQ van 110 worden willekeurig vier personen geselecteerd. We willen de kans weten dat alle vier personen een IQ hebben dat groter is dan 120. Deze kans kun je berekenen als je de kans weet dat één willekeurig persoon uit deze beroepsgroep een IQ groter dan 120 heeft. Deze laatste kans kun je aflezen uit figuur 3. Figuur 3 staat ook, vergroot, op de uitwerkbijlage.

- 3p **19** Bereken op bovenstaande wijze de kans dat alle vier personen een IQ hebben groter dan 120.

Een vuistregel van de normale verdeling zegt dat 68% van de gegevens ligt tussen de waarde $\mu - \sigma$ en de waarde $\mu + \sigma$. Deze vuistregel zou ook in figuur 3 terug te vinden moeten zijn.

- 5p **20** Laat zien dat deze vuistregel is terug te vinden in de grafieken van figuur 3. Doe dit op de uitwerkbijlage voor personen uit een beroepsgroep met een gemiddeld IQ van 120. Licht je werkwijze toe.